


1. Uvedte najvýznamnejšie dôkazy guľatosti Zeme:

- a) .....
- b) .....
- c) .....




2. Doplňte číselné hodnoty do obrázka:

- polomer Zeme,
- priemer Zeme.

3. Nakreslite Zem, ako si ju predstavovali ľudia pred viac ako 2 000 rokmi.



4. Nakreslite do obrázkov, ako môžete pozorovať loď plaviacu sa do prístavu.



**Kľúčové slová:** guľatý tvar Zeme, glóbus, polomer Zeme



.....

.....

.....

.....

.....

.....